

## Actividad 6: Primeras civilizaciones

Fecha de presentación: hasta el lunes 15 de junio.

Para el estudio de las primeras civilizaciones, definimos dos conceptos muy importantes: *estado* y *civilización*.

Qué es un **Estado**? Según nuestra bibliografía, para evitar conflictos y para organizar las distintas actividades de la población, aparecieron los primeros Estados.

Un **estado** es una forma de organización política y legal que tiene tres elementos fundamentales: población, territorio y sistema de leyes. Se ocupa de la defensa del territorio y de la organización de las tareas que requieran trabajos colectivos.

Qué son las “**civilizaciones**”?

Son aquellas **culturas** que alcanzaron un gran desarrollo técnico, que crearon ciudades y elaboraron complejos sistemas de organización como los Estados.

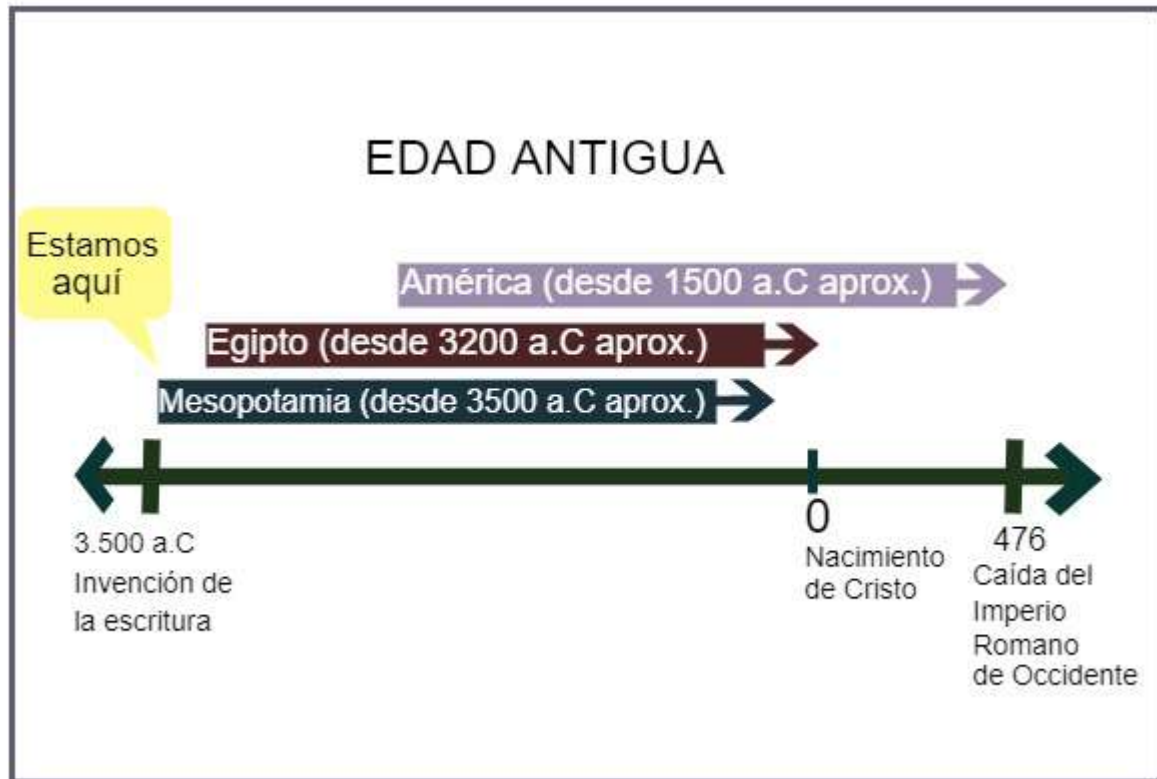
\*Cultura: Conjunto de modos de vida y costumbres, conocimientos y grado de desarrollo artístico, científico, industrial, en una época, grupo social, etc. (RAE)

### Dónde surgieron las primeras civilizaciones?

Las puedes ubicar observando detenidamente el mapa de página 57:

- Mesopotamia Asiática (actual Irak)
- Valle del río Nilo (Egipto)
- Valle del Indo (Pakistán, Afganistán y norte de India)
- Ríos Yangtse y Huang (China)
- Mesoamérica (México)
- Área andina (Perú)

En cuanto a la ubicación temporal, estamos comenzando lo que llamamos “Historia Escrita”, en su primer período denominado “Edad Antigua”.



## Primeras civilizaciones de Egipto y el Cercano Oriente

### El Cercano Oriente

La región del Cercano Oriente o Próximo Oriente comprende:

- Asia Menor (actual Turquía)
- Mesopotamia Asiática (Irak, entre los ríos Tigris y Éufrates)
- Corredor Sirio-Palestino (Líbano, Siria, Israel y Jordania)
- Meseta de Elam (sudeste de la Mesopotamia, sobre el Golfo Pérsico, actual Irán)
- Meseta de Irán (hoy Irán)

Algunos autores incluyen Egipto en esta región otros prefieren separarlo.

En esta primera etapa, estudiaremos los primeros pueblos de la Mesopotamia Asiática: Sumerios, Acadios y Babilonios.

## **Sumerios:**

**Actividad:** En base al texto de la página 70, previa búsqueda de las palabras que no conozcas en el diccionario, responder:

- 1- Dónde se ubicaron las ciudades-estados sumerios?
- 2- Qué era el Ensi o Patesi y qué funciones cumplía?
- 3- Qué actividades económicas, que desarrollaron los sumerios, menciona el texto?
- 4- Cómo estaba organizada la sociedad sumeria?

## **Bibliografía:**

Barraza Natalia y otros (2015). “Historia desde las primeras sociedades hasta el siglo XV”. Editorial Santillana. Buenos Aires.

**Consultas:** en el correo [nicoarredondo76@gmail.com](mailto:nicoarredondo76@gmail.com), en el blog de historia: <http://clase3.tk> o en el foro de intercambio: <http://clase3.tk/foro>

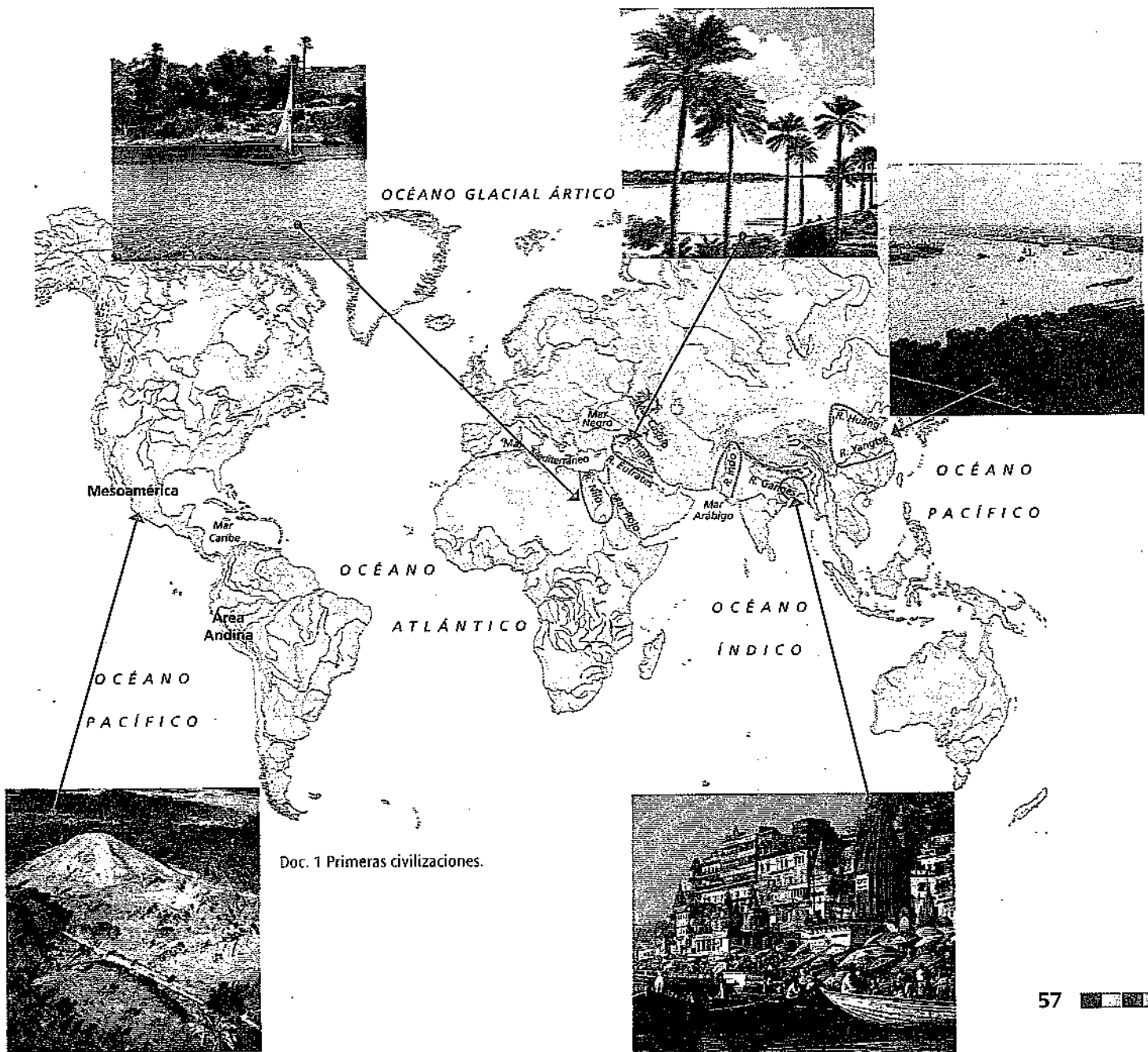
## ...las primeras civilizaciones

La aparición de los primeros Estados a fines del período Neolítico es paralela a la aparición de las primeras civilizaciones. ¿Qué son las civilizaciones? Son aquellas culturas que alcanzaron un gran desarrollo técnico, que crearon ciudades y elaboraron complejos sistemas de organización política, como los Estados.


Además, las civilizaciones llevaron adelante la construcción de grandes obras públicas y lograron una cuidadosa organización de las actividades productivas. Por eso pudieron garantizar la alimentación de una gran masa de población.

Con el aumento de la producción agrícola (lograda a causa de la gran organización), aumentaron los excedentes. Estos eran acumulados y, en épocas de escasez por las malas cosechas, eran distribuidos entre la población.

Todas estas actividades requerían de un cuidadoso registro. Era necesario controlar quiénes pagaban impuestos y en qué cantidad, anotar los resultados de los intercambios comerciales que las distintas ciudades mantenían con otras y hacer cálculos para determinar qué se necesitaba para construir las grandes obras... Por todas estas razones aparecieron los sistemas de escritura y de numeración. Y, para registrar el paso del tiempo, surgieron los calendarios.



Doc. 1 Primeras civilizaciones.



## Las civilizaciones hidráulicas

Las civilizaciones más antiguas se asentaron en **llanuras aluviales** (formadas por los aportes de los sedimentos de grandes ríos), en el **valle del Nilo**, la **Mesopotamia asiática** (entre los ríos **Tigris** y **Éufrates**) y el **valle del río Indo**. Estas civilizaciones se llamaron **hidráulicas** porque se desarrollaron junto a grandes ríos.

Los ríos se utilizaban como fuente de riego y como vía de transporte y comunicación.

La actividad fundamental de los pobladores de estas civilizaciones era la **agricultura**, ya que aprovechaban los terrenos fértiles que se encontraban alrededor de los cauces fluviales. Sin embargo, estos ríos crecían en determinadas épocas del año e inundaban las tierras de sus márgenes. Por esta razón, era fundamental contener las crecidas y almacenar el agua y esto se conseguía con grandes obras hidráulicas, como diques y canales de riego o de drenaje. Como estas obras requerían de trabajos colectivos, eran organizadas por gobiernos centralizados con una fuerte burocracia.

Además de la civilización hidráulica del río Indo, en Asia también existieron otras similares: la del **Ganges**, al norte de la India, y las de los ríos **Yangtsé** (Azul) y **Huang** (Amarillo) en China.

En América, en cambio, las grandes civilizaciones no dependieron de grandes ríos sino que encontraron otras formas de explotar el espacio y de alimentar a la población. Surgieron en las llamadas **áreas nucleares**: **Mesoamérica** (centro-sudeste de México y la zona norte de Centroamérica) y el **área andina**.

## Ubicación temporal

Como ya leíste en el capítulo 4, después de la revolución neolítica, muchas sociedades se asentaron en aldeas. A su vez, muchas de estas aldeas se transformaron en ciudades y, algunas de ellas, se transformaron, finalmente, en grandes civilizaciones.

Muchas de estas sociedades vivieron etapas similares, es decir, pasaron por las mismas experiencias hasta llegar a convertirse en grandes civilizaciones; sin embargo, no siempre atravesaron por ellas al mismo tiempo.

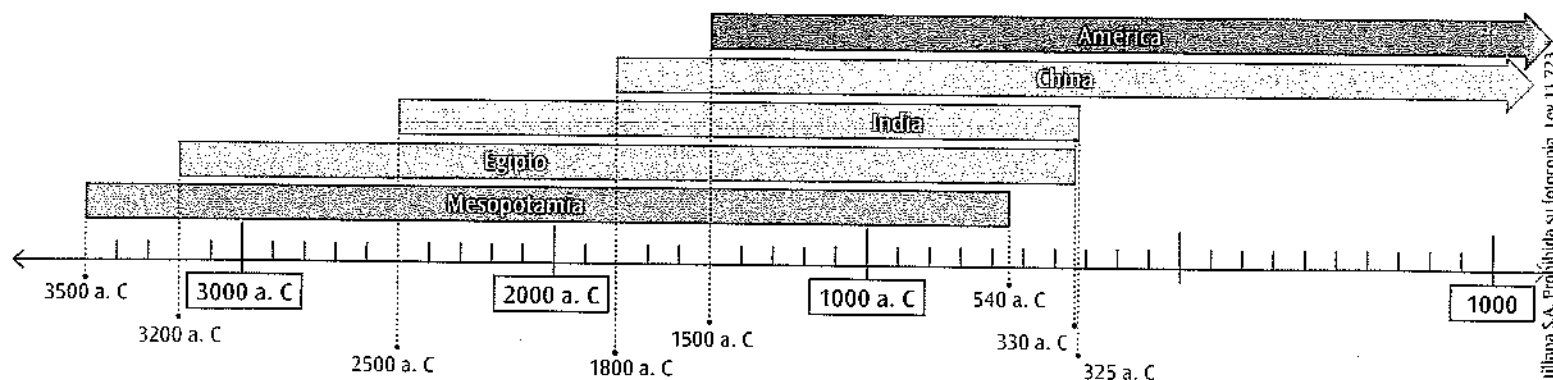
Por ejemplo, a fines del segundo milenio antes de Cristo, las civilizaciones de Mesoamérica y de los Andes Centrales recién estaban formándose, mientras que las civilizaciones egipcia y mesopotámica, se habían conformado unos 2.000 años antes.

Para poder ubicarte en el tiempo y para comparar los desarrollos de las distintas civilizaciones, así como para saber cuáles fueron contemporáneas y cuáles no, necesitamos tener una mirada sincrónica. ¿Te acordás qué significa?

En el capítulo 1 viste que la sincronía es el estudio de distintos hechos o procesos que tuvieron lugar en un mismo período, pero en diferentes espacios.

A continuación, te presentamos una línea de tiempo con un estudio diacrónico y sincrónico de las diferentes civilizaciones asiáticas y americanas que te facilitará la comprensión.

### Diacronía y sincronía de las primeras civilizaciones



## Las ciudades-Estado súmeras

Los pobladores más antiguos de la Baja Mesopotamia, los **súmeros**, se agruparon en ciudades políticamente independientes llamadas **ciudades-Estado**. Cada una de ellas tenía sus propias autoridades y leyes, así como su propia divinidad protectora.

Las principales ciudades-Estado fueron **Ur, Uruk, Nippur, Lagash, Umma, Kish y Eridu**, algunas de las cuales tenían puertos sobre los ríos.

Los primeros jefes de las ciudades fueron príncipes-sacerdotes electivos, llamados **ensi** o **patesi**, que se encargaban de dirigir las obras de riego, defender la ciudad y organizar el culto a los dioses. Pero las luchas por el control del agua y de las tierras provocaron enfrentamientos (doc. 2) que originaron la aparición de los **lugal**, príncipes o reyes con poder militar cuyo cargo era hereditario.

Las ciudades súmeras, protegidas por fosos y murallas, no estaban planificadas y crecían desordenadamente. Sin embargo, todas compartían ciertas características: en el interior de las murallas se encontraban los edificios más importantes —el palacio, el templo y el santuario o **zigurat**—, y todas estaban rodeadas de campos, de donde se obtenía la mayor parte de los productos para la subsistencia de los pobladores.

Un complejo sistema de diques y canales, permitió el cultivo de cereales (trigo, cebada, mijo), legumbres, palmeras datileras, vid y árboles frutales. También se criaban ganado bovino, ovino y caprino, que proveía de carne, leche y lana, y onagros, que son una variedad de asnos.


Los productos que no provenían de las actividades agrícolas, como la madera o algunos minerales, se obtenían a través del comercio caravanero, fluvial o marítimo. Los pobladores de la Mesopotamia importaban madera y basalto de Fenicia y Siria; cobre de Chipre y Asia Menor; hierro y estaño del Cáucaso; oro y plata de Egipto; marfil y piedras preciosas de la India, en tanto que vendían productos agrícolas y objetos de lujo.

### La sociedad

La sociedad súmera no estaba conformada por ciudadanos sino por **súbditos**. ¿Qué quiere decir esto? Que no tenían derechos políticos, o sea que no podían participar de la elección del gobernante, y tampoco podían ser propietarios de tierras.

Pero no todos los miembros de la sociedad eran iguales sino que, por el contrario, era una sociedad **jerárquica**. La clase dominante estaba integrada por el rey y su familia, los sacerdotes, los jefes militares, la burocracia real (incluyendo a los escribas, que eran los funcionarios que sabían leer y escribir), y los terratenientes, que controlaban también el comercio fluvial y de caravanas. Por debajo de este grupo privilegiado, vivían los profesionales (como arquitectos y médicos), los artesanos y los trabajadores especializados dependientes del palacio y, fuera de las murallas de la ciudad, los campesinos. En cuanto a los esclavos, eran prisioneros de guerra o deudores que no podían pagar sus deudas. No formaban un grupo social y podían obtener su libertad y también casarse con gente libre.

Doc. 2 Estela de los buitres, que conmemora una victoria de la ciudad de Lagash sobre la de Umma luego de una pelea por tierras de cultivo y canales de agua. En la figura están representados el rey y su ejército.



### ACTIVIDADES

1. Marcá con una x la respuesta correcta:
  - a) La sociedad súmera era una sociedad jerarquizada porque:
    - La población estaba dividida en grupos.
    - Toda la población tenía los mismos privilegios.
    - La población estaba dividida en grupos con distinto poder.
  - b) La zona urbana de la ciudad súmera y la zona rural se relacionaban porque:
    - El campo abastecía a la ciudad de alimentos.
    - La ciudad abastecía al campo de alimentos.
    - Ambos espacios se encontraban dentro de las murallas de la ciudad.
  - c) Las ciudades súmeras eran ciudades-Estado porque:
    - Cada ciudad era un Estado en sí misma, ya que tenía sus propios gobernantes que no debían obedecer a nadie.
    - Cada ciudad tenía su gobernante, que debía rendirle cuentas a un dirigente general, que mandaba por sobre los gobernantes menores.
    - Cada ciudad tenía sus propios funcionarios.